

EXAMEN BREVET DE CONDUITE RESTREINT ET GENERAL – 26 novembre 2011

Remarque: La mention « **RPNE** » correspond au règlement général de police pour la navigation sur les eaux intérieures du Royaume.

Questions 1-6



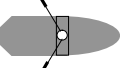



Lequel des bateaux jouit de la priorité? (RPNE)

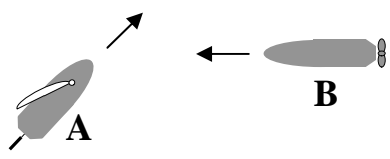
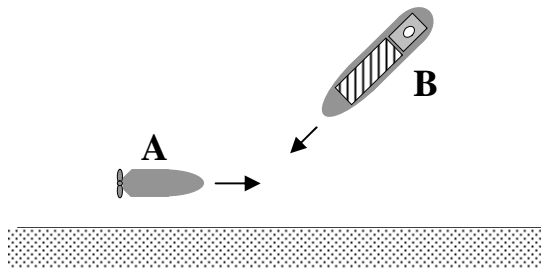
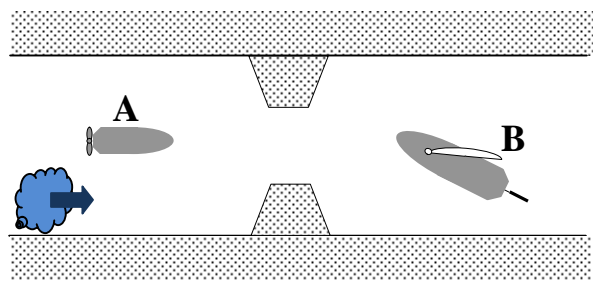
A = le bateau A est prioritaire

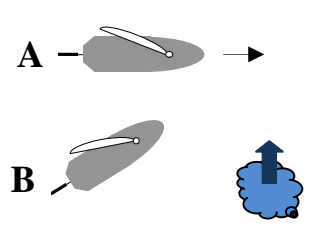

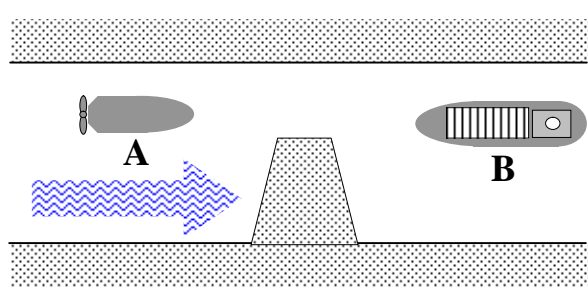
B = le bateau B est prioritaire

C = les deux bateaux doivent s'écarter

Signification des symboles:





					
direction du vent	menue embarcation à voile	menue embarcation mue par la force musculaire	menue embarcation à moteur	grand automateur	direction du courant

1.		aucun des bateaux ne suit le côté du chenal à tribord
2.		A suit le côté du chenal à tribord
3.		

<p>4.</p>		<p>aucun des bateaux ne suit le côté du chenal à tribord</p>
<p>5.</p>		<p>aucun des bateaux ne suit le côté du chenal à tribord</p>
<p>6.</p>		<p>passage étroit</p>

Questions 7-11

Que signifie le panneau suivant (RPNE):

<p>7.</p>	<p>A. passage étroit B. embarcadère C. port de plaisance</p>	
<p>8.</p>	<p>A. interdiction de stationner sur la largeur marquée en mètres B. interdiction du stationnement latéral à proximité d'un bateau C. interdiction d'ancrer sur la largeur indiquée en mètres</p>	
<p>9.</p>	<p>A. interdit aux menues embarcations B. interdit aux bateaux de plaisance C. interdit aux bateaux de plaisance mus par la force musculaire</p>	
<p>10.</p>	<p>A. bac ne naviguant pas librement B. bac naviguant librement C. attention ! Bateaux qui traversent la voie navigable</p>	

11. A. largeur variable de la voie navigable entre 30 et 60 mètres
 B. autorisation de stationner sur la largeur comprise entre les deux distances, indiquées en mètres, à partir du panneau
 C. autorisation de stationner du côté de la voie navigable où le signal est placé, pour des bateaux dont la longueur est comprise entre 30 et 60 mètres




Questions 12-15

De quel bateau s'agit-il ? Prenez aussi en compte la direction et/ou les spécifications additionnelles. Choisissez toujours la réponse la plus complète. (RPNE)

12. A. bateau à passagers longueur < 20 m
 B. bateau remorqué
 C. bateau effectuant des travaux dans le chenal



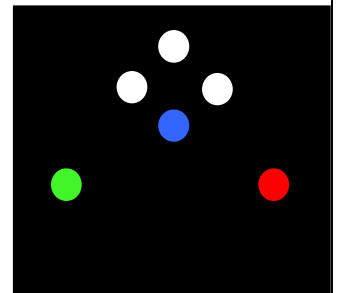
13. A. bateau de pilotage (vue avant)
 B. bac navigant librement (vue avant)
 C. bac ne navigant pas librement (vue avant)



14. A. bateau amarré
 B. menue embarcation à l'ancre
 C. bac ne navigant pas librement (de jour)



15. Vue avant de :
 A. bateau en train de draguer des mines
 B. bateau à capacité de manœuvre restreinte
 C. convoi poussé transportant des matières dangereuses



16. Que signifie le signal sonore **■ ■■■■ ■■■■** (son bref, son prolongé, son bref, son prolongé, etc.) (RPNE).
 A. je veux dépasser à votre bâbord
 B. demande d'aide médicale
 C. n'approchez pas

17. Quel est l'âge minimum pour conduire un bateau de plaisance à moteur dont la coque a une longueur de 5 m et qui peut naviguer à 30 km/h ? (RPNE)

- A. 16 ans
- B. 18 ans
- C. 21 ans

18. Vous disposez d'un bateau de plaisance motorisé, longueur de la coque 7 m, et qui peut naviguer à 30 km/h. Faut-il avoir un certificat de jaugeage ? (RPNE)

- A. non
- B. oui, parce que vous pouvez naviguer à grande vitesse
- C. oui, lorsqu'il s'agit d'un bateau à moteur

19. Que signifie le mot « mouillage » (pour la navigation intérieure) ?

- A. tout lieu où l'on peut ancrer
- B. la distance verticale entre la route d'un pont et le plan d'eau
- C. la profondeur du chenal

20. Le dessin montre (RPNE) :

- A. bifurcation (marque de banc médian)
- B. marque de côté gauche du chenal
- C. marque d'un épi rive gauche

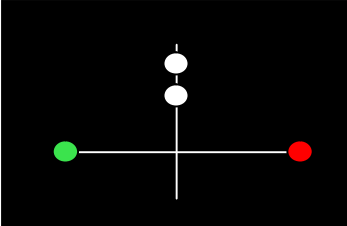
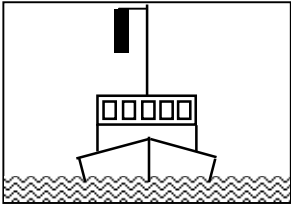

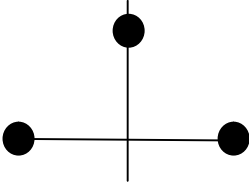


QUESTIONS SUPPLEMENTAIRES POUR L'OBTENTION DU BREVET DE CONDUITE GENERAL

REGLEMENT INTERNATIONAL POUR PREVENIR LES ABORDAGES EN MER


Questions 21-24


Déterminez de quel bateau il s'agit. Choisissez toujours la réponse la plus complète !


21.		<p>A. navire à propulsion mécanique au mouillage B. navire à propulsion mécanique faisant route et dont la longueur ne dépasse pas 50 m C. navire à propulsion mécanique faisant route peut importe la longueur</p>
feux – vue d'avant		
22.		<p>A. un bateau-pilote B. un navire de pêche (pas de pêche au chalut) C. un navire handicapé dans ses manœuvres par son tirant d'eau</p>
23.		<p>A. navire à propulsion mécanique en train de remorquer B. navire à propulsion mécanique en train de remorquer lorsque la longueur du train de remorque dépasse 200 mètres C. navire à propulsion mécanique en train de pousser</p>
marque de jour		
24.		<p>A. navire au mouillage de longueur inférieure à 50 m B. navire effectuant des opérations de déminage C. navire handicapé par son tirant d'eau</p>
marque de jour		

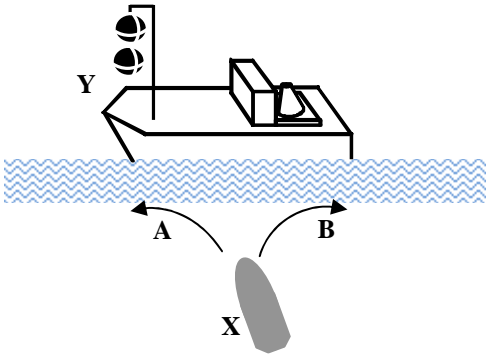
Questions 25-27

Quelle est la signification du signal sonore ?

25.		<p>A. navire à propulsion ayant de l'erre B. navire à capacité de manœuvre restreinte C. navire remorqué</p>
visibilité réduite		

26.  A. je compte vous rattraper sur bâbord
B. je compte vous rattraper sur tribord
C. signal d'accord donné par le navire qui est sur le point d'être rattrapé
- signaux
d'avertissement

27.  A. navire qui n'est pas maître de sa manœuvre
B. navire en train de pêcher
C. bateau-pilote en service de pilotage
- visibilité réduite

28.  Quelle route doit suivre la menue embarcation X ?
Y est un grand navire.

- A. la route A
B. la route B
C. au choix A ou B

29. Laquelle des propositions suivantes est exacte ?

- A. un navire en train de pêcher ne peut pas gêner le passage d'un autre navire naviguant à l'intérieur d'un chenal étroit
B. un navire qui navigue à l'intérieur d'un chenal étroit ne peut pas gêner un navire en train de pêcher
C. il est interdit à tout navire de pêcher à l'intérieur d'un chenal étroit

30. La couleur des marques de navire est :

- A. toujours noir
B. noir, jaune ou bleu selon le cas
C. noir, rouge ou vert selon le cas

REGLEMENT DE NAVIGATION DE L'ESCAUT MARITIME INFÉRIEUR

31. La couleur d'un feu de remorquage est :

- A. blanc
B. vert
C. jaune

32. Un bateau à voile d'une longueur de 25 m et qui fait route doit, entre autre, montrer la nuit au sommet du mât ou à l'endroit le plus visible, deux feux visibles de tous les côtés, alignés verticalement,

- A. le feu supérieur rouge, le feu inférieur vert
B. le feu supérieur vert, le feu inférieur rouge
C. le feu supérieur rouge, et le feu inférieur blanc

33. Le chenal est :

- A. la partie balisée de la voie navigable
- B. la partie navigable de l'Escaut
- C. le zone portuaire d'Anvers

34. Vous voulez quitter le chenal mais pour ce faire vous devez croiser la route d'un autre bateau faisant route en dehors du chenal et vous devez l'obliger à modifier son cap ou sa vitesse ; est-ce permis ?

- A. non
- B. oui
- C. oui, si vous êtes de plus grandes dimensions que lui

35. Un bateau chargé d'une mission de police montre un feu bleu scintillant. Si deux ou plusieurs de ces bateaux montrent ce feu bleu scintillant,

- A. la vitesse doit être réduite dans la zone située entre ces bateaux
- B. seul le transport de marchandises est autorisé dans la zone située entre ces bateaux et la navigation de plaisance y est interdite
- C. la zone située entre ces bateaux est interdite à la navigation

REGLEMENT DE POLICE DE L'ESCAUT MARITIME INFÉRIEUR

36. Le « Règlement de police de l'Escaut maritime inférieur » s'applique :

- A. exclusivement à l'Escaut maritime inférieur
- B. à l'Escaut maritime inférieur et à ses dépendances, non compris les ports
- C. à l'Escaut maritime inférieur et à ses dépendances, ainsi qu'aux ports en communication libre avec le fleuve

37. Il est obligatoire d'arborer le pavillon national pendant le jour lorsqu'il s'agit :

- A. d'un navire
- B. d'un voilier
- C. d'un bateau immatriculé à l'étranger

METEOROLOGIE

38. L'instrument de mesure de l'humidité relative s'appelle :

- A. un hygromètre
- B. un pluviomètre
- C. un baromètre anéroïde

39. Voici une carte de l'Europe de l'Ouest. Quelle est la masse d'air indiquée par la direction de la flèche ?

- A. air polaire maritime
- B. air tropical maritime
- C. air arctique



40. Sur une carte météorologique de surface, vous apercevez le symbole suivant :



Ceci indique :

- A. un front froid
- B. un front chaud
- C. une occlusion

1	A	B	C	16	A	B	C	31	A	B	C
2	A	B	C	17	A	B	C	32	A	B	C
3	A	B	C	18	A	B	C	33	A	B	C
4	A	B	C	19	A	B	C	34	A	B	C
5	A	B	C	20	A	B	C	35	A	B	C
6	A	B	C	21	A	B	C	36	A	B	C
7	A	B	C	22	A	B	C	37	A	B	C
8	A	B	C	23	A	B	C	38	A	B	C
9	A	B	C	24	A	B	C	39	A	B	C
10	A	B	C	25	A	B	C	40	A	B	C
11	A	B	C	26	A	B	C				
12	A	B	C	27	A	B	C				
13	A	B	C	28	A	B	C				
14	A	B	C	29	A	B	C				
15	A	B	C	30	A	B	C				